

おもしろ算数 166 (小2年生)

(このページは、ちよくせつにゆうりよく直接入力できません。 いんさつそのまま見るか、つかって印刷してもらって使ってね!!)

小学校2年生の みなさん、こんにちは。

おもしろ算数 166 は「分数」の問題です。






【問題】

下の正方形をまっすぐな線で切り、 $\frac{1}{4}$ を作りましょう。

形のちがう $\frac{1}{4}$ を 3つ作りましょう。

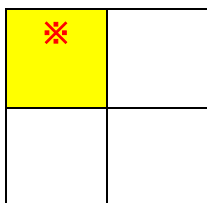


【自分の考え】

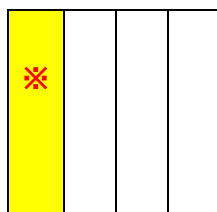


答え. たとえば、下のようになります。

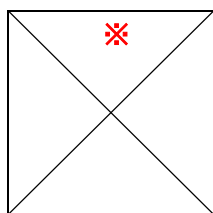
①



②



③



ごめんなさい、色がつけられませんでした。
左の図形には、三角形が4つあります。
この図形は、正方形に対角線を2本引いた図形です。
そしてできた4つの三角形は、どれもすべて、
1
もとの図形の 4 になります。