

# おもしろ算数(293) (小3年生)

(このページは、ちよくせつにゆうりよく直接入力できません。 みそのまま見るか、いんさつ印刷してもらってつか使ってね!!)

小学校3年生の みなさん、こんにちは。

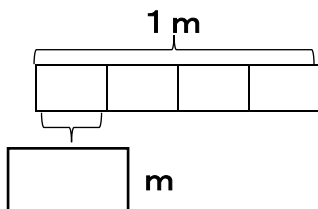
おもしろ算数 (293) は、「分数」の問題です。



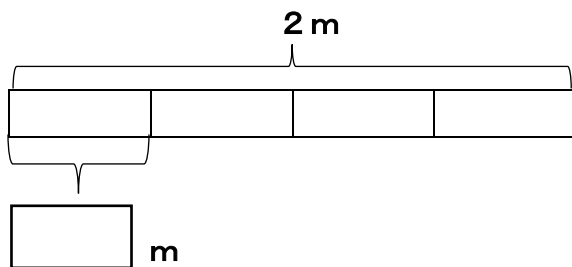
【問題】

つぎの  の中にあてはまる数を書きましょう。

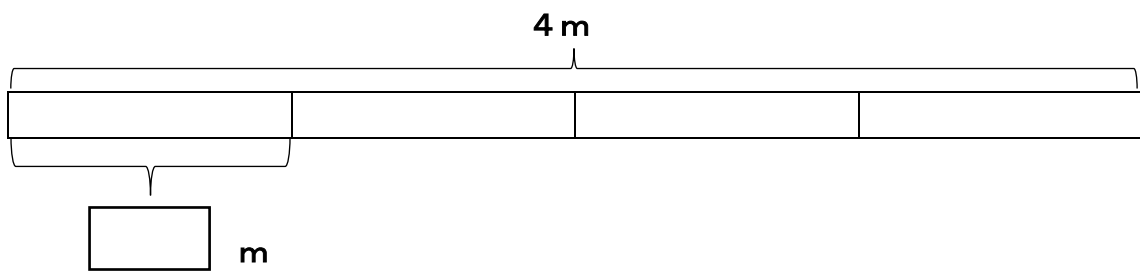
①



②



③



(答え)

答え. ①  $\frac{1}{4}$     ②  $\frac{1}{2}$     ③ 1

※教科書の P167 に書いてある内容です。

分数の基本となる内容ですので、正しく身に付けましょう。

①、②、③は、すべてテープを 4 等分した一つ分の大きさですが、

もとの大きさがちがうと、同じ  $\frac{1}{4}$  にあたる大きさでも、量はちがってくるのですね。