

# おもしろ算数(131) (小5年生)

(このページは、直接入力できません。 そのまま見るか、印刷してもらって使ってね!!)

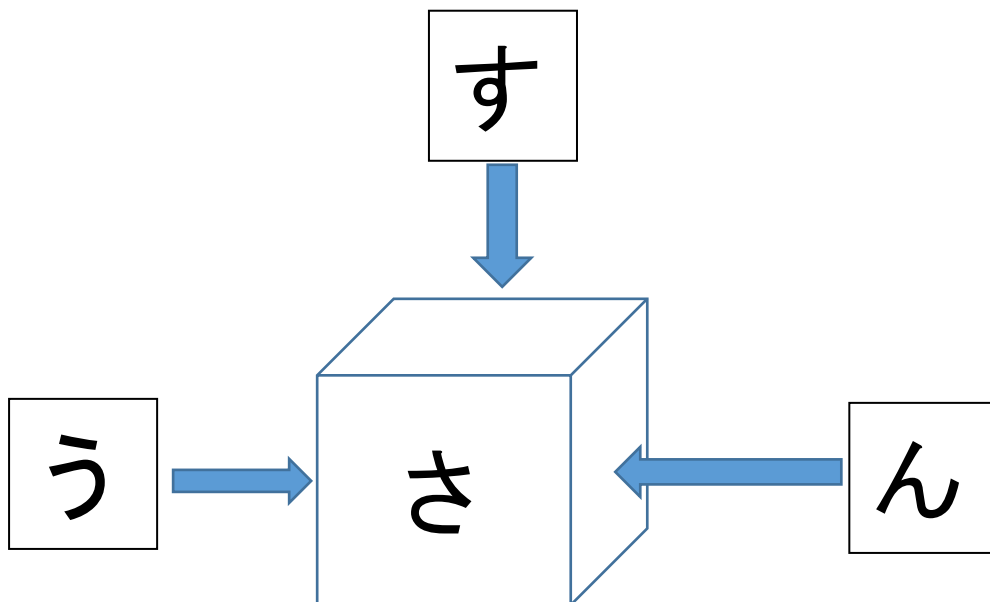
小学校5年生の みなさん、こんにちは。

おもしろ算数 (131) は、「立方体の展開図」の問題です。



## 【問題】

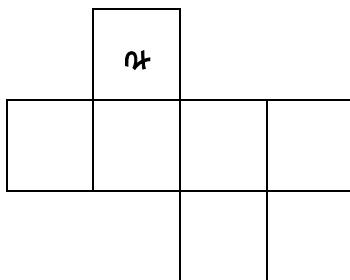
下の図のように、立方体の面に「さんすう」という文字が書いてあります。ちょうど、ぐるりと回すと順に読めるような向きで書いてあります。



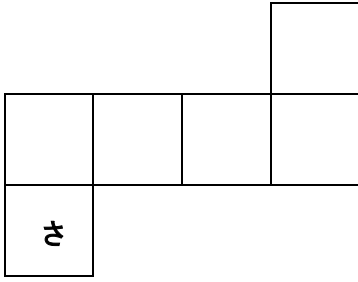
下の①、②の立方体の展開図を組み立てたとき、上の立方体と文字の向きが同じになるように、文字を面に書きましょう。

## 【自分の考え】

①

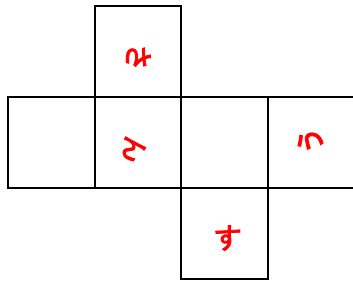


②



答え. 下の図のような立方体の展開図になります。

①について、



②について、

